



وزارة التربية

إدارة الشؤون التعليمية

مراقبة الامتحانات وشؤون الطلبة

نموذج الإجابة

المرحلة المتوسطة

الفترة الدراسية الرابعة

المادة : الاجتماعيات

الصف : السادس

العام الدراسي

2016 / 2015

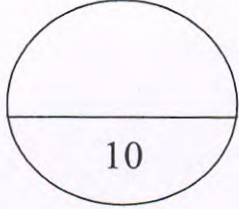
محافظة مبارك الكبير التعليمية

العام الدراسي 2015/ 2016 م	 <p>وزارة التربية منطقة مبارك الكبير التعليمية التوجيه الفني للاجتماعيات</p>	وزارة التربية
الفصل الدراسي الثاني		منطقة مبارك الكبير التعليمية
الزمن : ساعة و45 دقيقة		التوجيه الفني للاجتماعيات

## اختبار الفترة الدراسية الرابعة للصف السادس الكويت ودول الخليج العربية

**السؤال الأول : موضوعي ويتكون ن (أ - ب )**

**( أ ) أكمل العبارات التالية بما يناسبها**

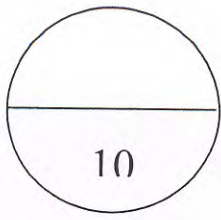


- 1 - قام النظام العراقي البائد بغزو دولة الكويت في يوم الخميس عام 1990 م ص 123
- 2 - يوجد مقر مكتب التربية العربي في مدينة الرياض ص 114
- 3 - صدر إعلان الدوحة بشأن قيام السوق الخليجية المشتركة في يناير عام 2008 م ص 114
- 4 - درع واقى للأحياء من خطر الأشعة فوق البنفسجية الضارة طبقة الأوزون ص 119
- 5 - احرق النظام العراقي البائد الآبار النفطية الكويتية البالغ عددها أكثر من 737 بئر ص 123
- 6 - إعادة تصدير البضائع المستوردة يسمى الترانزيت ص 87

**( ب ) صنف الكلمات التالية بما يناسبها في الجدول بوضع الرقم المناسب :- ص 113 و ص 114**

- 1- توحيد المناهج التعليمية وتطويرها
- 2- المواقف الموحدة تجاه المشكلات السياسية
- 3- إنشاء قوة مشتركة
- 4- زيادة التبادل التجاري

تعاون ثقافي	تعاون اقتصادي	تعاون عسكري	تعاون سياسي
( 1 )	( 4 )	( 3 )	( 2 )

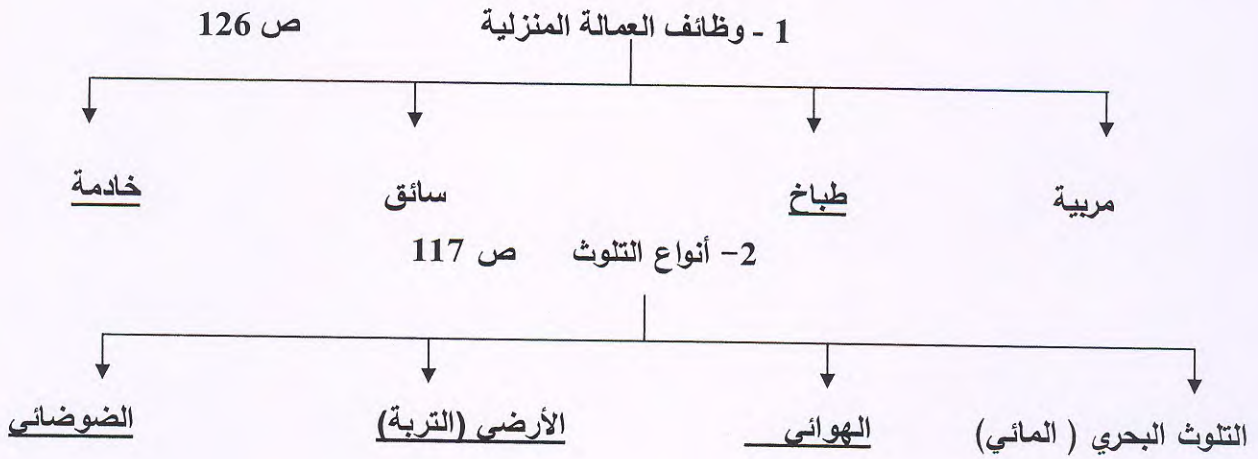


السؤال الثاني : موضوعي ويتكون من ( أ- ب )

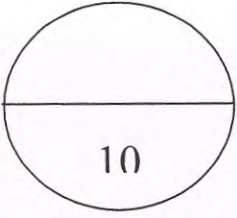
(أ) صحح ما تحته خط بوضع الإجابة الصحيحة بين القوسين:

- 1- تقاس بقسمة عدد السكان على مساحة الدولة النمو السكاني ( الكثافة السكانية ) ص 99
- 2- نجحت المملكة العربية السعودية في إنتاج محصول يسمى الذرة ( القمح ) ص 81
- 3- حدثت حادثة منطقة الشعبية الصناعية في دولة الكويت عام 1977 ( 1967م ) ص 119
- 4- أقل دول الخليج العربية كثافة في السكان تسمى البحرين ( سلطنة عمان ) ص 99
- 5- توجد الآثار التاريخية لحضارة أم النار في دولة الإمارات ( قطر ) ص 91

(ب) أكمل المخططات التالية:



وزارة التربية والتعليم  
منطقة مبارك الكبير التعليمية  
التوجيه الفني للإجتماعيات



**السؤال الثالث : موضوعي ويتكون من ( أ - ب )**

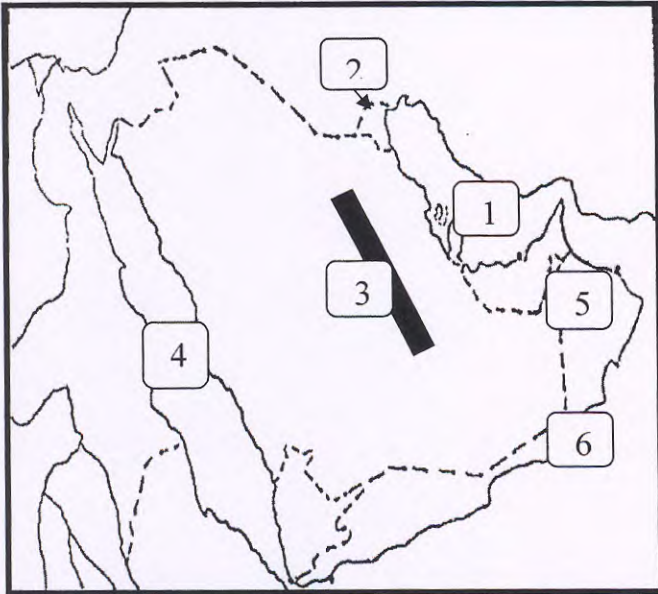
**( أ ) أختَر الإجابة الصحيحة من بين البدائل التالية وضع خطأ تحتها :**

- 1- أكبر دولة في العالم من حيث عدد السكان : ص 95  
( روسيا - الصين - الهند - الولايات المتحدة الأمريكية ) .
- 2- البعثة الأجنبية التي اكتشفت الآثار في منطقة الخليج العربي هي : ص 91  
( هولندا - بريطانيا - النرويج - الدانمارك ) .
- 3- أعلى نسبة إنتاج للنفط لدول الخليج العربية توجد في دولة : ص 78  
( الكويت - الإمارات - السعودية - قطر ) .
- 4- منطقة زراعية تقع في شمال دولة الكويت اسمها : ص 82  
( الإحساء - العبدلي - سهل الباطنة - الوفرة ) .
- 5- يزرع فيها الخضراوات في غير مواسمها وتقوم بحماية المحاصيل من تقلبات الطقس تعرف ب: ص 83  
( الزراعة بدون تربة - بيوت بلاستيكية - الري بالتنقيط - الزراعة التقليدية )

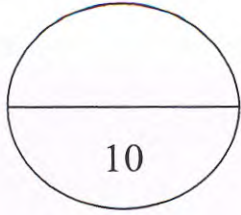
**( ب ) أمامك خريطة دول الخليج العربية الصماء نفذ عليها**

**ما يأتي ص 80 و ص 81**

- \* الرقم ( 1 ) على الخريطة يمثل مسطح مائي يسمى الخليج العربي
- \* الرقم ( 2 ) يمثل دولة الكويت
- \* منطقة سهل الباطنة يمثلها على الخريطة الرقم ( 5 )
- \* الرقم ( 3 ) على الخريطة يمثل أكبر حقل نفط في السعودية يسمى الغوار
- \* البحر الأحمر يمثلته على الخريطة الرقم ( 4 )



منطقة مبارك الكبير التعليمية  
التوجيه الفني للإجتماعيات



السؤال الرابع : مقال ويتكون من ( أ - ب )

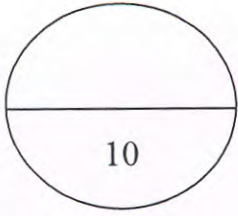
(أ) عرف المفاهيم التالية :

- 1- صناعة: تحويل المواد الخام الى مواد مصنعة يمكن الاستفادة منها ص 84
- 2- تلوث: الضرر الذي يصيب عناصر البيئة الأساسية ( هواء - ماء - تربة ) ص 117
- 3- سلالة: مجموعة من الناس تشترك فيما بينها في الصفات الجسمانية الرئيسية ص 91
- 4- عمالة منزلية:-مجموعة من الأفراد الذين يشاركون الأسرة في دور او اكثر داخل المنزل او خارجه ص 126
- 5- عنف::السلوك العدوانى التدميري الموجه ضد الغير والذي يتسم بالتخريب سواء كان اقوالاً او افعالاً ص 129

( ب ) علل لما يأتي ( اذكر السبب ) :

- 1- الحاجة الى اقامة الموانئ النفطية فى دول الخليج العربية. ص 80 ( درجة )  
- تزايد الإنتاج الخليجي \* تزايد الطلب العالمى على النفط
- 2- استقبال حوض الخليج العربى موجات سكانية من كل المناطق المجاورة. ص 93 (درجة )  
- بحكم موقعه الجغرافى المهم بين قارات العالم القديم - الجفاف الصحراوى
- 3- ارتفاع نسبة الطلاق فى دول الخليج العربية ص 135 (درجة )  
- قلة الوعي بأهمية الحياة الأسرية - ارتفاع تكاليف الزواج - الزواج المبكر  
- عدم القدرة على احتواء المشاكل الأسرية
- 4 - تعرض مياه الخليج العربى للتلوث .ص 120 ( درجتان )  
- بسبب مخلفات المصانع - مياه الصرف الصحى الغير معالجة - مياه الصرف الزراعى  
- النفط ومشتقاته - النفايات الخطرة - الأمطار الحمضية





**السؤال الخامس : مقال يتكون من ( أ - ب - ج )**

**( أ ) فرق بين كلاً من**

الصادرات	السلع والمنتجات التي تبيعها دولنا في الخارج ص 87
الواردات	البضائع والسلع التي تشتريها دولنا من الخارج ص 87

إنتاج النفط	كميات النفط التي يتم استخراجها للاستفادة منها ص 78
احتياط النفط	كميات النفط المخزونة في باطن الأرض ص 78

**( ب ) بعد قرأتك للفقرة التالية أجب عن الأسئلة التي تليها:**

بدأ التنقيب عن النفط بدولة الكويت عام 1934م في الحقول الشمالية في بحرة وتم تصدير أول شحنة من النفط الكويتي عام 1946م وتعتبر الدول الصناعية الكبرى من أهم الدول المستوردة للنفط الكويتي.

1- أول حقل نفط تم اكتشافه في دولة الكويت بحرة

2- تم تصدير أول شحنة نفط من دولة الكويت عام 1946م ص 77


3- من الدول المستوردة للنفط الكويتي  
\*الولايات المتحدة الأمريكية - هولندا  
\*اليابان

**( ج ) اكتب فيما يلي مما درست :**

1- السبب في ازدهار الصناعة في دول الخليج العربية ؟ ( درجة )  
بسبب اكتشاف النفط وتصديره. - اهتمام الحكومات الخليجية بزيادة الدخل

2- أوجه التشابه الثقافي بين دول الخليج العربية ؟  
من ص 102 الى ص 107

اللغة - الدين - العادات والتقاليد - التاريخ المشترك - وحدة الأصل



**درجة السؤال المقالي.....**